

受験算数の基礎



試行力問題～子どもから大人まで～

マス目と数字のパズル・2

図1のマス目では、上下左右にとなりあうマスじょうげきゆうを数えていくと、1のマスと1のマスあいだの間には1マス、2のマスと2のマスあいだの間には2マスあります。このきまりにしたがって、図2のマス目にできるだけおおくの数字をかきましょう。

図1

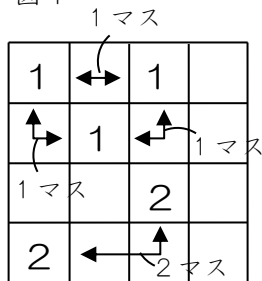
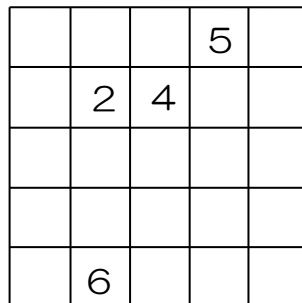
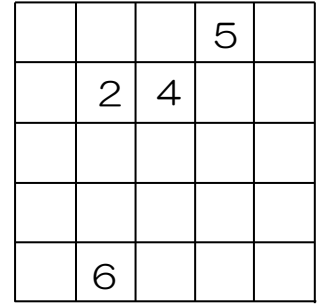
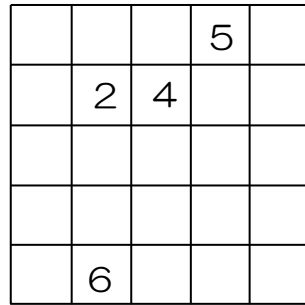
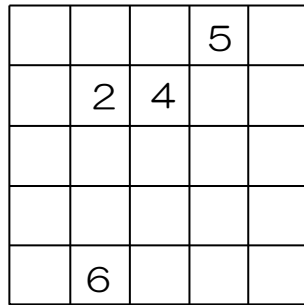
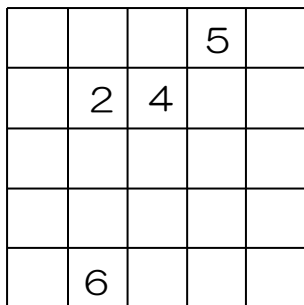


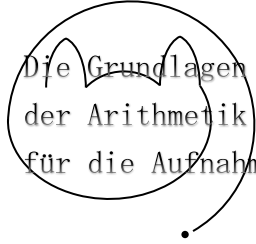
図2



【練習用】



受験算数の基礎



試行力問題～子どもから大人まで～

マス目と数字のパズル・2

7		3	5	6
	2	4		2
3			1	3
5		1		1
4	6	3	1	7

たとえば数字の2や4, 6は, マス目がどんなにひろがっていても2個までしか書けません。こういったことに気づきながら, がんばってさがしましょう。