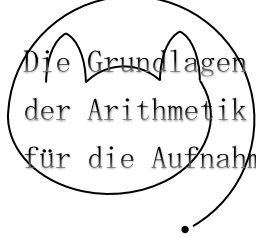


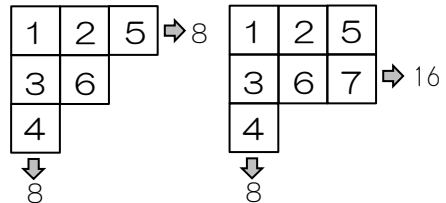
受験算数の基礎



試行力問題～子どもから大人まで～

たし算の表・5

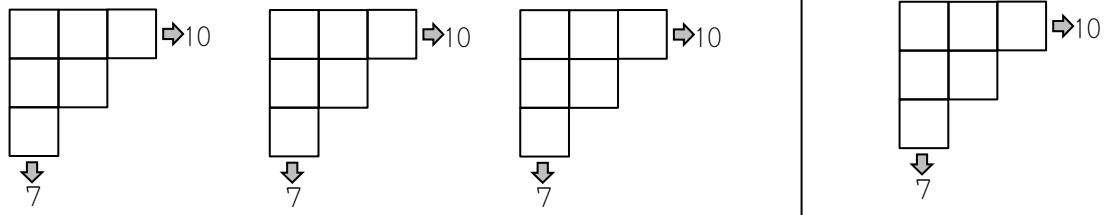
6マスの表には1～6, 7マスの表には1～7のように、マス目の数だけ1から数字を入れます。また、右のマスの数字は左のマスの数字より大きく、下のマスの数字は上のマスの数字より大きくします。やじるしの先には、たてや横にならんでいる数字の合計を書きます。



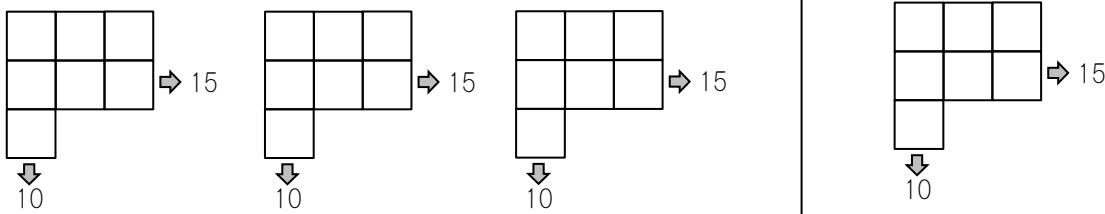
①～③の表のあいたところに数字を入れましょう。

①

解答らん

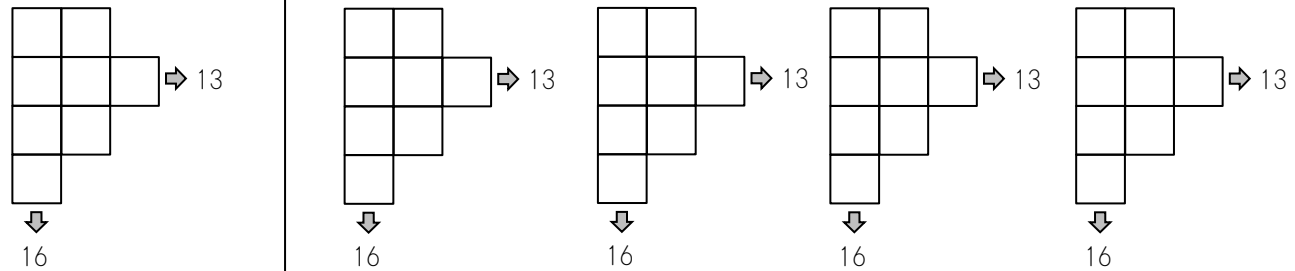


②



③

答えをすべてかきなさい。解答らんはすべてつかうとはかぎりません。



受験算数の基礎

Die Grundlagen
der Arithmetik
für die Aufnahmeprüfung

試行力問題～子どもから大人まで～

たし算の表・5

①

1	3	6	⇒10
2	5		
4			
↓			
7			

②

1	2	4	
3	5	7	⇒15
6			
↓			
10			

③

1	3		
2	4	7	⇒13
5	6		
8			
↓			
16			

1	2		
3	4	6	⇒13
5	8		
7			
↓			
16			