

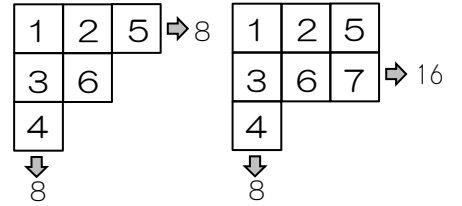
受験算数の基礎

Die Grundlagen  
der Arithmetik  
für die Aufnahmeprüfung

試行力問題～子どもから大人まで～

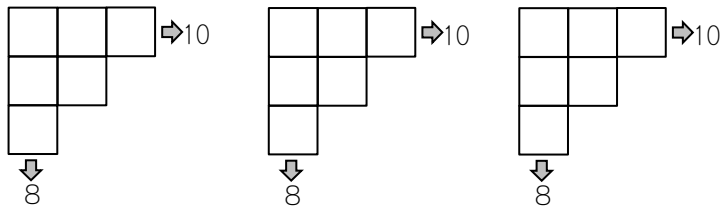
たし算の表・4

6マスの表には1～6, 7マスの表には1～7のように、マス目の数  
だけ1から数字を入れます。また、右のマスの数字は左のマスの数字  
より大きく、下のマスの数字は上のマスの数字より大きくします。  
やじるしの先には、たてや横にならんでいる数字の合計を書きます。

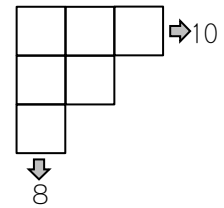


①～③の表のあいたところに数字を入れましょう。

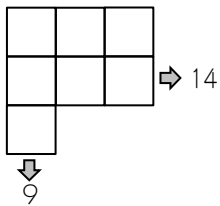
①



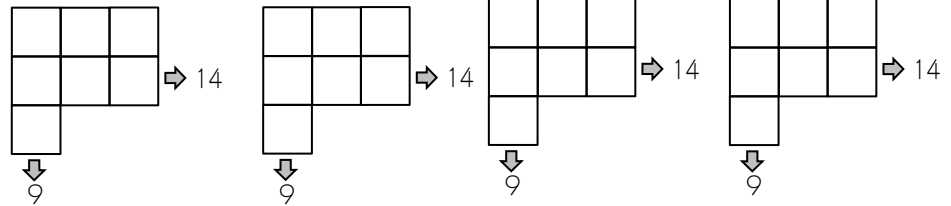
かいとう  
解答らん



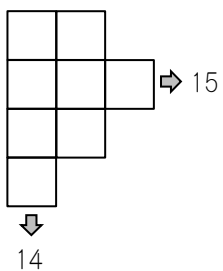
②



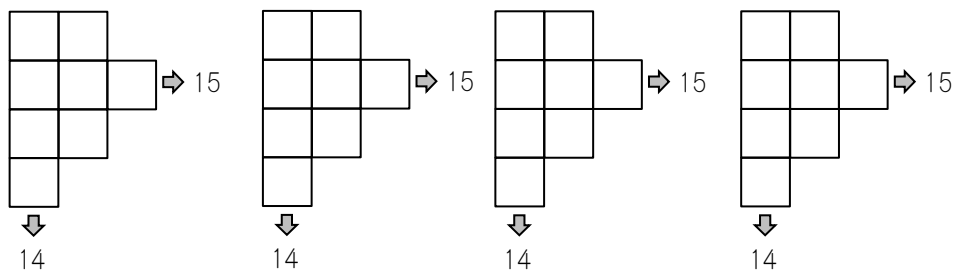
答えをすべてかきなさい。解答らんはすべてつかうとはかぎりません。



③



答えをすべてかきなさい。解答らんはすべてつかうとはかぎりません。



受験算数の基礎

Die Grundlagen  
der Arithmetik  
für die Aufnahmeprüfung

試行力問題～子どもから大人まで～

たし算の表・4

①

1	3	6	⇒10
2	4		
5			
↓			
8			

②

1	3	4	
2	5	7	⇒14
6			
↓			
9			

1	2	6	
3	4	7	⇒14
5			
↓			
9			

③

1	3		
2	5	8	⇒15
4	6		
7			
↓			
14			

1	2		
3	5	7	⇒15
4	8		
6			
↓			
14			